

ANALIZZA I DIAGRAMMI

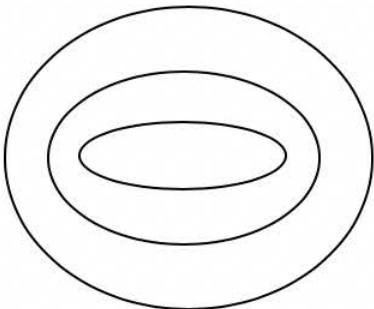


DIAGRAMMA 1

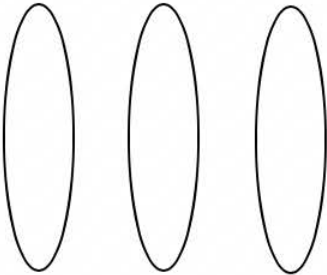


DIAGRAMMA 2

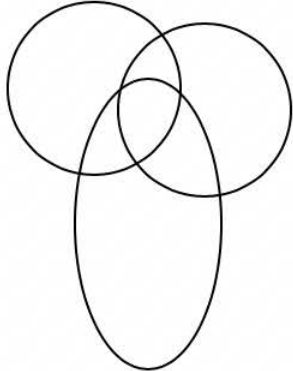


DIAGRAMMA 3

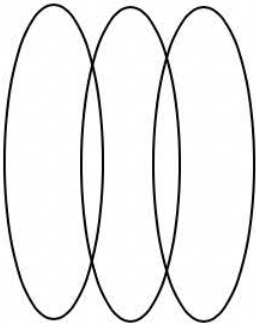


DIAGRAMMA 4

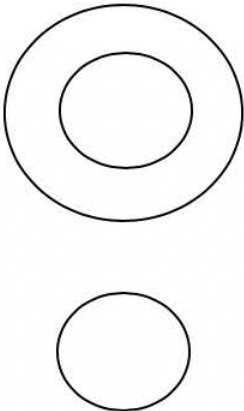


DIAGRAMMA 5

SCHEDA 1

**Individua il diagramma che soddisfa la relazione insiemistica esistente tra i termini dati:
IMPRENDITORI – NUOTATORI – SICILIANI**

- DIAGRAMMA 1
- DIAGRAMMA 2
- DIAGRAMMA 3
- DIAGRAMMA 4
- DIAGRAMMA 5

**Individua il diagramma che soddisfa la relazione insiemistica esistente tra i termini dati:
MAMMIFERI – ANIMALI – PIPISTRELLI**

- DIAGRAMMA 1
- DIAGRAMMA 2
- DIAGRAMMA 3
- DIAGRAMMA 4
- DIAGRAMMA 5

SCHEDA 2

Individua il diagramma che soddisfa la relazione insiemistica esistente tra i termini dati:

CEREALI – BARBABIETOLE – AVENA

- DIAGRAMMA 1
- DIAGRAMMA 2
- DIAGRAMMA 3
- DIAGRAMMA 4
- DIAGRAMMA 5

Individua il diagramma che soddisfa la relazione insiemistica esistente tra i termini dati:

INSEGNANTI – FRANCESI – SPAGNOLI

- DIAGRAMMA 1
- DIAGRAMMA 2
- DIAGRAMMA 3
- DIAGRAMMA 4
- DIAGRAMMA 5

SCHEDA 3

**Individua il diagramma che soddisfa la relazione insiemistica esistente tra i termini dati:
MAGLIETTE – NEGOZI – PANTALONI**

- DIAGRAMMA 1
- DIAGRAMMA 2
- DIAGRAMMA 3
- DIAGRAMMA 4
- DIAGRAMMA 5

**Individua il diagramma che soddisfa la relazione insiemistica esistente tra i termini dati:
IMPIEGATI – BIONDI – TEDESCHI**

- DIAGRAMMA 1
- DIAGRAMMA 2
- DIAGRAMMA 3
- DIAGRAMMA 4
- DIAGRAMMA 5

SCHEDA 4

Individua il diagramma che soddisfa la relazione insiemistica esistente tra i termini dati:

LAUREATI – LAVORATORI – DISOCCUPATI

- DIAGRAMMA 1
- DIAGRAMMA 2
- DIAGRAMMA 3
- DIAGRAMMA 4
- DIAGRAMMA 5

Individua il diagramma che soddisfa la relazione insiemistica esistente tra i termini dati:

HORROR – FILM – CINEMA

- DIAGRAMMA 1
- DIAGRAMMA 2
- DIAGRAMMA 3
- DIAGRAMMA 4
- DIAGRAMMA 5

SCHEDA 5

**Individua il diagramma che soddisfa la relazione insiemistica esistente tra i termini dati:
NUMERI COMPRESI TRA 6 E 9 – NUMERI COMPRESI TRA 5 E 15 – NUMERI COMPRESI TRA 17 E 23**

- DIAGRAMMA 1
- DIAGRAMMA 2
- DIAGRAMMA 3
- DIAGRAMMA 4
- DIAGRAMMA 5

**Individua il diagramma che soddisfa la relazione insiemistica esistente tra i termini dati:
COLTELLI – CHIODI – CACCIAVITI**

- DIAGRAMMA 1
- DIAGRAMMA 2
- DIAGRAMMA 3
- DIAGRAMMA 4
- DIAGRAMMA 5